

中 2020

(第3回)

社 会

始める前に下の注意事項を読みなさい。

- 始めの合図があるまで開いてはいけません。
- 問題は全部で 17 ページあります。
- 答えはすべて解答用紙に書きなさい。
- 問題冊子、解答用紙のいずれにも受験番号、氏名を書きなさい。
- 質問のあるときは静かに手をあげ先生の指示を待ちなさい。
- 終わりの合図があったら、ただちに筆記用具を置きなさい。
- 問題冊子を持ち帰ってはいけません。

受 験 番 号		ふり がな	
		氏 名	

1 日本の公害について下の問いに答えなさい。



問1 四大公害病の一つである水俣病^{みなまた}が発生した場所を、上の地図のA～Eから1つ選び、記号で答えなさい。

問2 水俣病^{しょうじょう}の主な症状として適当なものを次の①～④より1つ選び、記号で答えなさい。

- ①呼吸が苦しくなり、はげしい^{ぜんそく}喘息の症状があらわれた。
- ②骨がもろくなり、折れやすくなる症状があらわれた。
- ③手足がしびれ、目や耳が不自由になるなどの症状があらわれた。
- ④高熱^{ぞうき}がでて、さまざまな臓器の機能が低下する症状があらわれた。

問3 水俣病の原因は、工場から排水されたメチル水銀です。この排水されたメチル水銀はどのようにして人間の体に取り込まれたのでしょうか。説明しなさい。

2 文章を読み、下の問いに答えなさい。

①海の生物多様性を守るため、沖合に海洋保護区を設けるべきだ。中央環境審議会が、そんな答申を原田義昭環境相に提出した。政府は海の生態系保全に本腰を入れなければならない。

国際的には「2020年までに海域の10%を保護区にする」との目標がある。9年前に名古屋市であった生物多様性条約締約国会議で「愛知目標」の一つとして盛り込まれたものだ。すでに各国の領海・排他的経済水域の17%近くが保護区になり、来年には24%を超える。ところが日本の保護区は8.3%にとどまっており、主要国の中で対応が遅れている。しかも、その多くが水深200メートルより浅い沿岸域に集中していて、より深い沖合域はほとんど手つかずのままだ。

②日本の領海・排他的経済水域は世界6位の広さで、③3万種を超す生物がいる。豊かな海に囲まれた国として、生物多様性保全の務めを果たしているとは言いがたい。取り組みを加速させるべきだ。特に沖合域の深海には、沿岸域とは違う独特の生態系がある。巨大なダイオウイカや、海底の熱水噴出孔を好むコシオリエビの仲間のように、固有の生き物も多い。海底の地形を含めて全体を保全することが、生物多様性を守るのに欠かせない。

今回の答申は、人間の活動で深海の環境が乱されないよう、自然環境保全法にもとづく保護区の設定を求めている。環境省は通常国会に法律の改正案を出し、来年にも（A）の沖合に保護区を新設する。保護区内では、海底を乱すような資源開発や漁業などが規制される。排他的経済水域は領海に比べて管轄権が限定的だが、関係省庁が連携し、監視や取り締まりをする必要がある。いうまでもなく、保護区を設けるだけでは不十分だ。保護区の海中を科学的に調査し、生態系の情報を集める。それを継続し、異変を見落とさないようにする。そうした取り組みを怠ってはならない。環境省によると、（A）の沖合に新たな保護区ができれば、愛知目標の「10%」を達成できるという。

— 後略 —

朝日新聞 2019年1月30日 社説

問1 下線部①、絶滅が危惧されている海洋生物が増えています。海洋で産卵・孵化して、淡水（河川）を遡り、古くから日本で食用とされてきた魚類も絶滅が危惧されています。この魚類を次のア～エから1つ選びなさい。なお、日本付近では太平洋のマリアナ海域が産卵場所といわれています。

ア サケ イ サンマ ウ ウナギ エ イワシ

問2 下線部②、日本の最南端の島を、次のア～エから1つ選びなさい。この島によって日本は広い排他的経済水域を得ていますが、島は浸食による消滅のおそれがあり、周囲がコンクリートで覆われています。

ア 沖ノ鳥島 イ 南鳥島 ウ 与那国島 エ 竹島

問3 下線部②、沿岸国に鉱物資源や水産資源などの経済的な権利が認められている排他的経済水域は沿岸から200海里（カイリ）の範囲までとなっています。1海里は1.852 kmです。200海里とは約何kmか答えなさい。なお、小数点第1位は四捨五入すること。

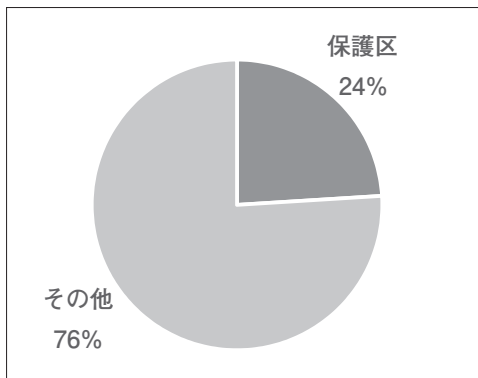
問4 下線部③、日本近海は世界の海の中でも有数の生物の多様性に富んだ海域です。多様性が高いのは日本沿岸を流れる海流の影響もあります。日本の太平洋側を南から流れてくる暖流と北から流れてくる寒流をそれぞれ答えなさい。

問5 空らん（ A ）は、豊かで独特の生態系が評価されて世界自然遺産となった諸島です。（ A ）に適する諸島を、次のア～エより1つ選び、記号で答えなさい。

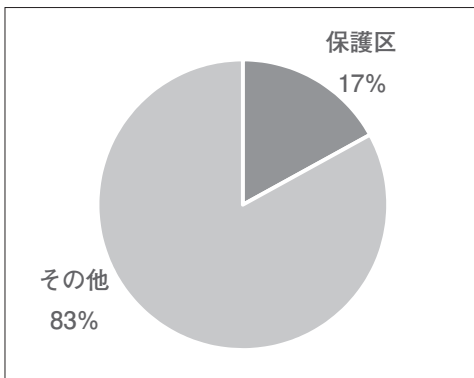
- | | |
|--------|---------|
| ア 伊豆諸島 | イ 小笠原諸島 |
| ウ 先島諸島 | エ 尖閣諸島 |

- 問6 （1）2020年までに海域の何％を保護区にすることが生物多様性条約締約国会議での目標（愛知目標）になりましたか。その割合を表したグラフを右のア～エより1つ選び、記号で答えなさい。
- （2）2019年1月末時点での日本の海域の保護区の割合はどれくらいですか。その割合を表したグラフを右のア～エより1つ選び、記号で答えなさい。

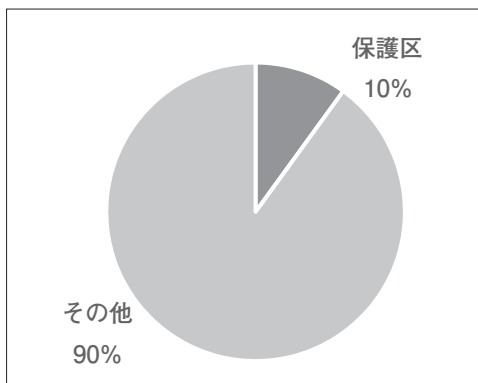
ア



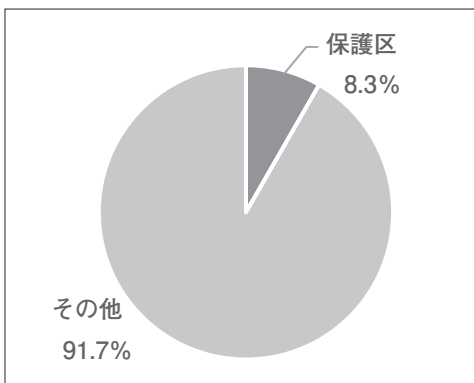
イ



ウ



エ



問7 近年、ウミガメやクジラなどの海の生き物が、人間が出す^{はいき}廃棄物を誤食^{ごしょく}して命を落とすケースが報告されています。私たちの暮らしの中で大量に使われ、海の生き物に影響を与えている廃棄物は何からつくられていますか。

3 次の文章を読み、あとの問いに答えなさい。

①平城京には東市ひがしのいちと西市にしの一ちが開かれ、税ぜいとして各地から集められた食べ物や布などが売られていました。役人たちは、②唐かへいの貨幣かへいにならってつくられた（あ）という貨幣を使ったり、給料として受け取った布などと交換して、生活に必要なものを手に入れました。政府は（あ）以外にも数種類の銅銭どうせんをつくりましたが、平安時代の中ごろの③958年につくられた銅銭を最後に、数百年間、日本では貨幣がつくられなくなりました。しかし、日本で貨幣が全く使われなくなったわけではなく、12世紀の中ごろに武士として初めて太政大臣となり、政治の実権をにぎった（い）は、中国との貿易をさかんに行い、中国の銅銭を輸入しました。この銅銭は④鎌倉時代になると、地方の定期市でも使われました。さらに、⑤室町幕府の3代将軍（う）が始めた⑥中国との貿易でも、中国の銅銭が輸入され、京都や定期市などでさかんに使われました。

問1 文中の空らん（あ）～（う）にあてはまる語句、人名を漢字で答えなさい。

問2 文中の下線部①に関連して、平城京に都があった時代に政府がつくことを命じた書物で、国ごとの地形や物産、伝説などをまとめたものを漢字で答えなさい。

問3 文中の下線部②に関連して、遣唐使や唐との交流に関する説明として誤っている文章を、次のア～オから1つ選び、記号で答えなさい。

- ア 遣唐使によって唐の進んだ法律や文化が日本に伝えられた。その影響から、聖武天皇の時代には国際性豊かな文化が栄えた。
- イ 遣唐使は命がけで唐にわたり、阿倍仲麻呂あべのなかまろのように、日本に帰国できずに唐で亡くなった人もいた。
- ウ 菅原道真すがわらのみちざねの意見により、遣唐使の派遣はけんは901年にとりやめになった。
- エ 平城京は唐の都、長安にならって道路が碁盤ごばんの目のようにつくられた。
- オ 奈良にある唐招提寺とうしょうだいじは、日本への航海に何度も失敗しながら来日した、僧の鑑真そうけんが創建した寺である。

問4 文中の下線部③に関連して、10世紀の中ごろよりもあとの時代のできごとを、次のア～エの中から1つ選び、記号で答えなさい。

- ア 空海しんこんしゅうが真言宗を開いた。
- イ 桓武天皇が平安京に都をうつした。
- ウ 白河上皇が院政を始めた。
- エ 平将門たいらのまさかどが関東で乱をおこした。

問5 文中の下線部④に関連して、鎌倉時代に関する説明として誤っている文章を、次のア～エの中から1つ選び、記号で答えなさい。

- ア 鎌倉時代の将軍と御家人は、ご恩^{おん}と奉公の関係で結ばれていた。ご恩とは、御家人の領地の支配を認めて、手がらがあれば新しい領地を与えることだった。
- イ 北条時宗は、武士としては初めての法律である御成敗式目を定めた。
- ウ 鎌倉時代には、草や木を焼いた灰などを肥料として使い、近畿地方では二毛作も行われるようになった。
- エ 九州をおそった元軍の一度目の攻撃^{こうげき}のあと、幕府は博多湾岸に石るいを築いた。

問6 下線部⑤の人物が行ったこととして誤っている文章を、次のア～エの中から1つ選び、記号で答えなさい。

- ア この人物が行った貿易は、倭寇^{わこう}と区別するために勘合^{かんごう}という合^{ふだ}い札が使われた。
- イ この人物が将軍をしていた時代に、南北の朝廷が1つになった。
- ウ この人物が将軍をしていた時代に幕府の力は強まり、京都に金閣を建てた。
- エ この人物が将軍をしていた時代のおわりごろに、応仁の乱がおこった。

問7 文中の下線部⑥に関連して、この時の中国は何という国だったか答えなさい。

4 次の文章を読み、あとの問いに答えなさい。

2019年4月、新しいお札が2024年に発行されることが発表され、新千円札の肖像には細菌学者の（あ）が選ばれました。五千円札にはアメリカに留学して、帰国後、女子の教育に力をつくした津田梅子が、また、一万円札には埼玉県出身で、第一国立銀行のほか、多くの会社の設立や経営に関わった渋沢栄一が選ばれました。

熊本県出身の（あ）が生まれたのは、ペリー来航の約半年前でした。彼が10代を過ごしたのは①幕末から明治維新へと世の中が大きく変化する時代でした。オランダ人医師との出会いから細菌研究に興味をもつようになり、ドイツに留学して細菌について研究しました。帰国後も細菌の研究を続け、1892年には伝染病研究所をつくりました。ペスト菌の発見、結核の予防など、伝染病の研究の基礎を築きました。

問1 文中の空らん（あ）にあてはまる人物の名を漢字で答えなさい。

問2 下線部①に関連して、ペリー来航から幕府が倒れた1867年の間のできごとに関する次の説明のうち、誤っているものを次のア～オから1つ選び、記号で答えなさい。

- ア 日米和親条約が結ばれ、幕府は下田など2港を開港した。
- イ 日米修好通商条約などが結ばれ、外国との貿易が始められた。
- ウ 外国との貿易によって大量の生糸が輸入され、人びとの生活が豊かになった。
- エ 長州藩や薩摩藩が中心となって、幕府をたおして新政府をつくる動きがおきた。
- オ 徳川慶喜が政権を朝廷に返すことを申し出、江戸幕府の時代が終わった。

問3 文中の空らん（あ）の人物がなくなったのは1931年です。1920年から1931年の間のできごとに関する説明として、誤っているものを次のア～エから1つ選び、記号で答えなさい。

- ア 全国水平社が設立され、その宣言のなかで男女の平等が訴えられた。
- イ 大きな損害と多くの死傷者を出した第一次世界大戦後、平和のための国際機関として国際連盟がつくられた。
- ウ 関東軍（満州の日本軍）が南満州鉄道の線路を爆破したことをきっかけとして、満州事変がおこった。
- エ 治安維持法が成立し、社会主義運動や労働運動をきびしくとりしめるようになった。

5

次の文章を読み、あとの問いに答えなさい。

身分制にもとづいていた江戸時代の社会が明治維新^{いしん}によって改められて、近代の日本が形づくられました。けれども1889（明治22）年から第二次世界大戦後までのこの国のかたちを決めていた大日本帝国憲法（明治憲法）には、多くの問題点もありました。2つの例を挙げてみましょう。

国会議員を選挙で選ぶことによって国民が政治に参加する権利は、成人男性に限られて、しかも最初のうちは税金を納める額によって制限もありました。第一次世界大戦の前後からは、女性の地位向上を目指す運動が始まりました。女性たちは、平塚らいてうや市川房枝などを中心に、政治への権利を求めてうったえたのです。けれども a この女性の選挙権という目標は、大日本帝国憲法の時代には結局、実現しませんでした。

第一次世界大戦がもたらした悲惨^{ひさん}な結果をみて、世界各国は国と国との争いを戦争で解決することを避^さけるための相談を国際会議で進めました。ところが、昭和時代の初め、満州（中国東北部）にいた日本軍が中国軍を攻撃して満州を占領してしまいます。そして戦争による支配の拡大が国際連盟で非難されると、日本は国際連盟を脱退してしまいました。結局、b 大日本帝国憲法の時代には、国の利益を戦争によって求めることが続いたのです。

さまざまな反省点のある近代の日本を変えたのは、大きな犠牲^{ぎせい}をもたらした戦争の後に行われたさまざまな「民主化」の改革でした。戦争に負けて戦争をやめようと考えただけではなく、それまでの社会のしくみの間違っていた面や、足りなかったことをどんどん直していったのです。その中で一番大きなことは、c 新しい憲法、つまり現在の日本国憲法を制定したことです。

問1 下線部 a と b の問題を解決しようとして、日本国憲法に定められたきまりを、次のア～クからそれぞれ2つずつ選び、記号で答えなさい。

ア 「誰でも、居住、移転および職業を選ぶ自由をもっている。」

イ 「すべて国民は、健康で文化的な最低限度の生活を営む権利をもっている。」

ウ 「公務員を選ぶことは、国民固有の権利である。選挙は、普通選挙とする。」

エ 「働く人びとは、労働組合をつくって働く条件について交渉する権利をもっている。」

オ 「すべて国民は、法の下に平等であって、人種、信条、性別、社会的身分などによって差別されない。」

カ 「戦争や、武力による脅し、武力の行使は、国際紛争を解決する手段としては、これを放棄する。」

キ 「すべて国民は、その子どもに普通教育を受けさせなければならない。」

ク 「わたしたちは、全世界の人々が、平等に、恐怖や欠乏もなく、平和な状態で生きていく権利をもっていることを確認する。」

* 以上の日本国憲法の文章はやさしい言葉に直して、整理しています。

問2 文中の下線部 c の「日本国憲法」のもとで、今日（2020年）の日本の国会はどのような仕組みをとっているでしょうか。次のア～エの中から正しい説明を1つ選び、記号で答えなさい。

ア 国会には衆議院と参議院の二院がある。衆議院議員は18歳以上の国民による選挙で選ばれ、参議院議員は25歳以上の国民による選挙で選ばれている。

イ 衆議院議員の任期は4年で、参議院議員の任期は6年である。つまり衆議院議員総選挙は4年に一度、参議院議員の選挙は6年に一度、行われている。

ウ 国会の主な仕事には、法律をつくることや国の予算を決めることがあるが、国の仕事が正しく行われているかどうかを調べることも国会の仕事だ。

エ 国会によって内閣総理大臣が選ばれる。衆議院と参議院の多数決でそれぞれ別の人物が選ばれた場合は、両議院の票数を合計して決めることになっている。

問3 文中の下線部cの「日本国憲法」は、行政権をもつ内閣の仕組みを定めています。そして、内閣の下には、省や庁などの行政機関がおかれています。現在、次の1と2の仕事を行っている行政機関を、下のア～クの中からそれぞれ1つ選び、記号で答えなさい。

- 1 わたしたちが加入する健康保険や年金制度についての仕事。
- 2 国民から税金を集める仕事や、国の予算の原案を作る仕事。

ア 外務省	イ 環境省	ウ 経済産業省
エ 厚生労働省	オ 国土交通省	カ 財務省
キ 農林水産省	ク 文部科学省	

新しい憲法を制定したことのほかにも、戦後数年の間に行われた「民主化」の改革や、平和条約を結び独立国に戻るときの交渉は、その後の歴史にさまざまな影響を与えました。その中には、望ましいこともあれば、多くの問題を残していることもあります。2つの例を挙げてみましょう。

例① 1940年代後半、農地改革が行われて、それまでの小作農家が自分の農地をもてるようになりました。また、それまであまり認められていなかった労働者の権利が認められ、国民の暮らし、生活が大きく変わりました。

例② 1951年に、当時の日本政府は、アメリカとソ連との対立が世界を巻き込んでいた様子を見て、日米安全保障条約を結び、アメリカとの関係を強めることを選びました。

これらいくつかの例を考えてみても、歴史と現在はつながっていることがわかります。そしていまの時代の人々が、その歴史を受け取り、よりよい社会をもとめて時代をつくっているのです。

問4 左の文中の例①・例②のことがらが原因となって、どのような結果につながりましたか。もっとも関係があることがらを、それぞれ下のア～エから1つずつ選び、記号で答えなさい。

ア 1956年に日本は、当時のソ連と国交を回復することになった。

そして、それとともに、日本の国際連合への加盟が実現した。

イ 1950年代後半から洗濯機、冷蔵庫、テレビなどの電化製品が全国の家庭に広まり、それらの製品をつくる産業も発展した。また、その他の輸出も拡大するなど、1970年代はじめまで高度経済成長がつづいた。

ウ 1972年に沖縄が日本に返還されるが、その後も広大な基地が残り、騒音や事故の危険など、沖縄県民は負担と犠牲を強いられることがつづいている。

エ 諸外国とのあいだで、農産物の輸入を自由化する交渉が度々おこなわれて、1960年代から1990年代にかけて段階的に、バナナ、牛肉、オレンジなどが輸入されるようになり、わたしたちの食生活にも広がった。

